

Esegui con la prova

$5690 : 64 =$

$87\ 520 : 38 =$

$5,98 \times 267 =$

$36,78 + 548 + 0,4 =$

$580 : 100 =$

$3,68 \times 1000 =$

$0,06 \times 100 =$

$4560 - 457,76 =$

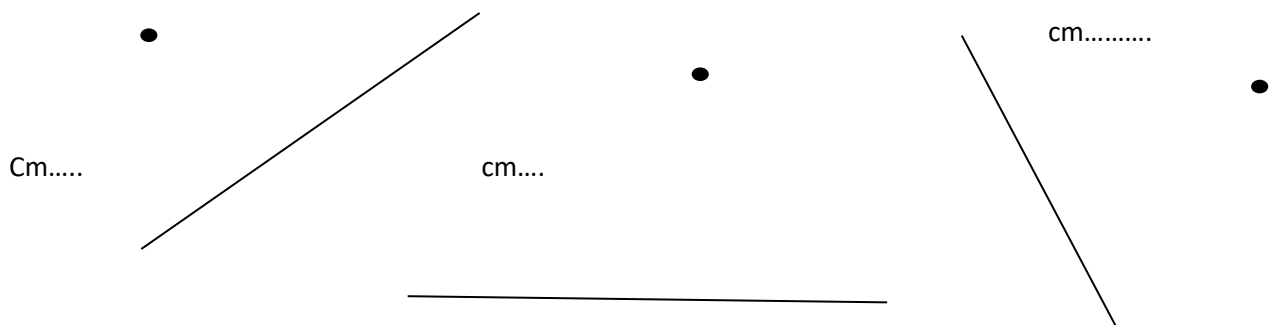
$3,8 : 10 =$

$8 : 100 =$

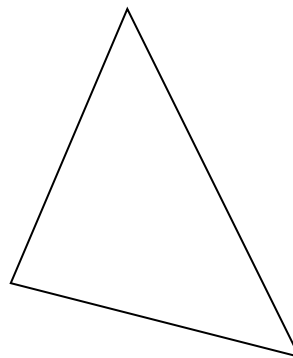
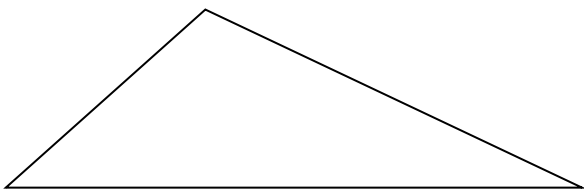
$63\text{kg} = \text{Mg}$

$569 \times 75 =$

Incolla sul quaderno, poi trova la distanza minore (Altezza) di questi punti rispetto al segmento con la squadra:



Classifica questi triangoli dopo aver misurato i lati



Problema

UN CAMION TRASPORTA 45 CASSE DI MELE.

IL SUO PESO CON IL CARICO DI MELE È 7,4 Mg, MENTRE LA TARA DEL CAMMION È 6,93 Mg.

OGNI CASSETTA HA LA TARA DI 0,8 kg. QUANTO È IL PESO NETTO TOTALE DELLE MELE?