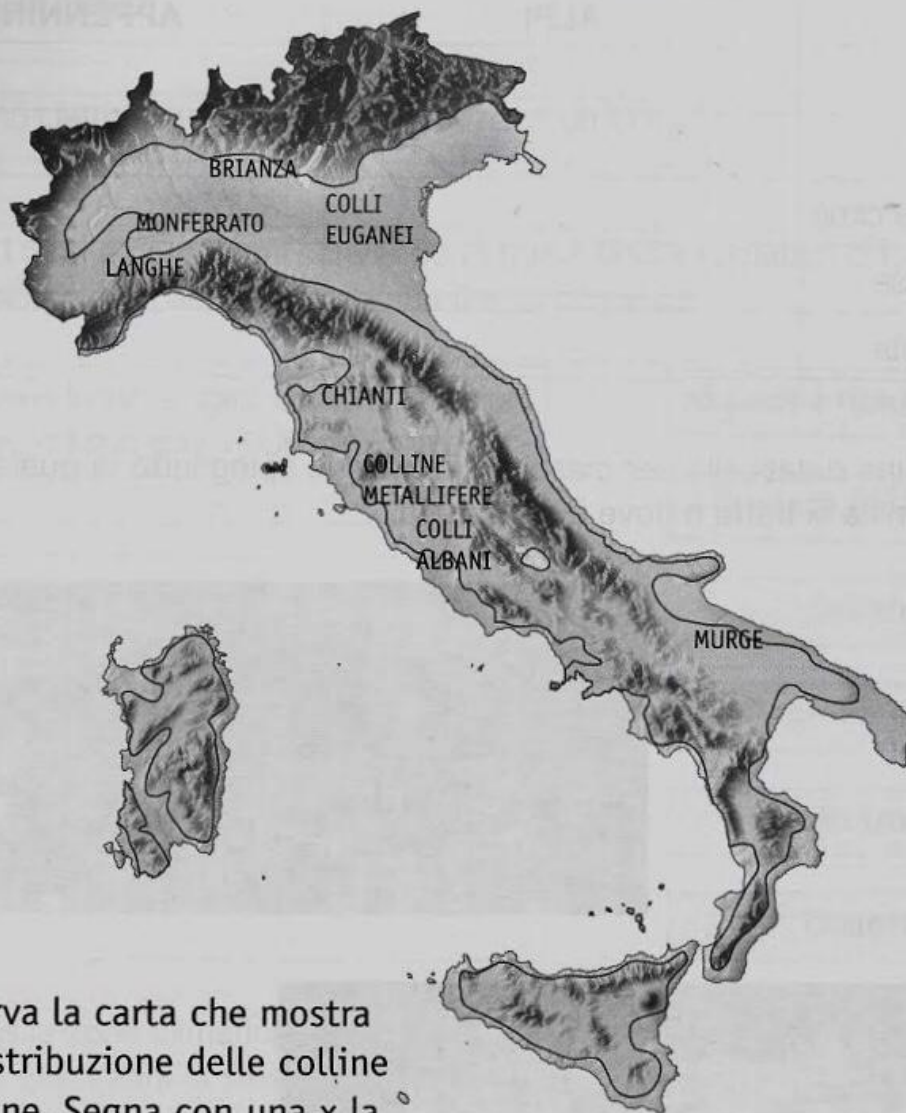



LE COLLINE ITALIANE

Le **colline** occupano quasi la metà del territorio italiano.



 Osserva la carta che mostra la distribuzione delle colline italiane. Segna con una x la risposta corretta e completa.

- In Italia le colline occupano:
 poco meno della metà del territorio
 meno di un quarto del territorio

• Elenca le colline del Nord

• Elenca le colline del Centro

• Elenca le colline del Sud

L'ORIGINE DELLE COLLINE

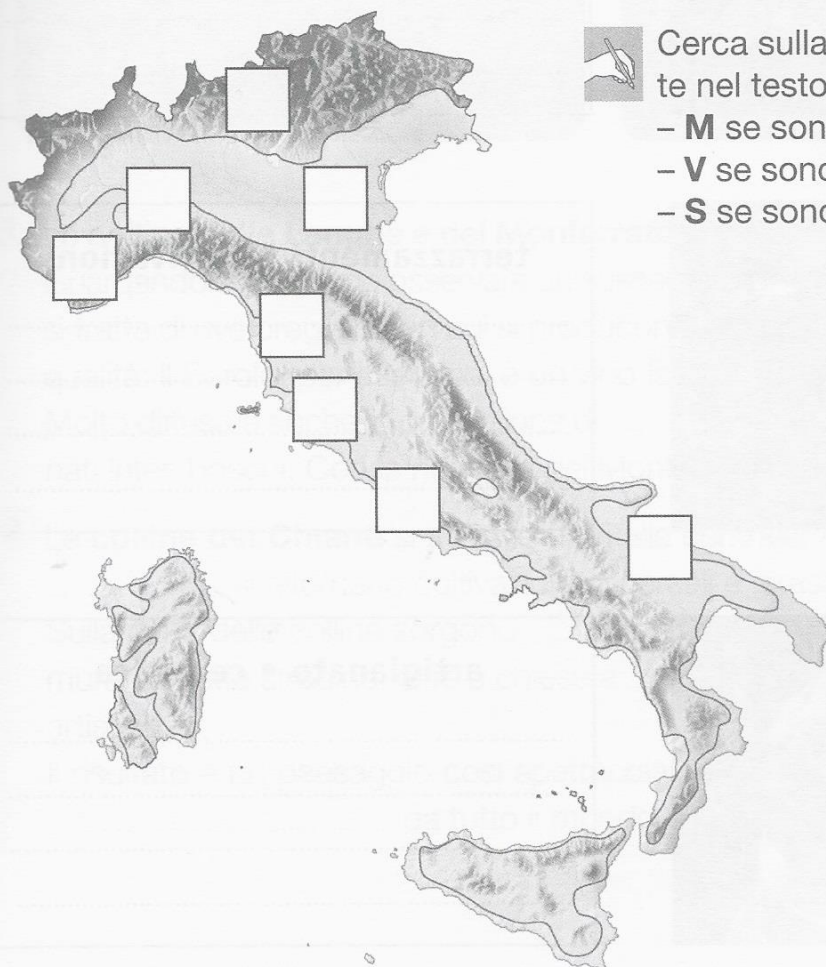
Le **colline** italiane hanno origini diverse legate alle caratteristiche della zona in cui sorgono, per esempio alla presenza, nel lontano passato, di ghiacciai o vulcani.



Completa ogni spiegazione con i termini elencati.

origine morenica • sollevamento • origine vulcanica

- Le colline ai piedi delle Alpi, come quelle della **Brianza**, si sono formate con l'accumulo dei detriti trascinati a valle da ghiacciai ormai scomparsi: sono colline di
- I **Colli Euganei**, le **Colline Metallifere** e i **Colli Albani** un tempo erano vulcani attivi, col tempo si sono spenti e sono stati erosi dagli agenti atmosferici: sono colline di
- Le **Langhe**, il **Monferrato**, le **Colline del Chianti** e le **Murge** si sono formate perché i fondali marini sono stati spinti verso l'alto: sono colline di



Cerca sulla carta le colline nominate nel testo e scrivi nelle caselle:

- **M** se sono di origine morenica;
- **V** se sono di origine vulcanica;
- **S** se sono di sollevamento.

VITA IN COLLINA



Osserva le fotografie sulle attività dell'uomo in collina e scrivi per ognuna una breve didascalia. Usa le parole-chiave suggerite.



olivi • coltivazioni

.....

.....

.....

.....




ovini • caprini • pascoli

.....

.....

.....

.....



terrazzamenti • coltivazioni

.....

.....

.....

.....